

INTRODUCERE IN GEOMETRIA DESCRIPTIVA

Geometria descriptiva, etapa geometrica a științei grafice, constă în aplicarea *teoriei proiecțiilor* la soluționarea problemelor spațiale. Uneori însă, numai cu proiecții ortogonale, este imposibil să soluționezi anumite probleme cum ar fi, *adevărata mărime* a unor elemente geometrice situate în plane înclinate față de planele de proiecție. Adevărata marime a segmentelor, unghiurilor, sau figurilor plane, se poate determina prin metode proprii geometriei descriptive.

Puncte, linii, plane și suprafețe spațiale se combină pentru a forma structuri de bază, *obiecte fizice*. Aceste elemente geometrice se pot afla în diferite relații reciproce, ca paralelismul, perpendicularitatea, înclinarea, intersecția.

Geometria descriptiva este folosită ca o unealtă de lucru, ca o sursă de soluții în multe ramuri ingineresti, cum sunt: mecanica, construcțiile și arhitectura. Multe dintre metodele ei de lucru, sunt mai simple și mai directe decât metodele matematicii pure. Se poate spune că uneori, pe baza cunoștințelor și metodelor grafice, soluțiile în matematică se pot simplifica prin înțelegerea corectă a problemelor spațiale, prin analiza grafică a relațiilor spațiale dintre elementele geometrice componente.

Geometria descriptiva este esențială în cercetare și proiectare. Proiectarea începe întotdeauna cu o etapă grafică, urmată apoi de corelarea activităților ingineresti și matematice, ducând la *caracterul științific* al proiectării.

Geometria descriptivă este folosită în rezolvarea problemelor spațiale, oferind soluția pentru stabilirea *corespondenței biunivoce* dintre elementele spațiului și ale planului (suportul reprezentărilor grafice). Metoda de lucru este *proiecția ortogonală*, iar asigurarea corespondenței biunivoce, obligă la folosirea *dublei sau triplei proiecții ortogonale*.

Aceasta se face utilizând două (fig. 2.1) sau trei (fig.2.2) plane de proiecție perpendiculare între ele, al căror nume este dat de poziția lor în spațiu: *planul orizontal* notat **[H]** - din

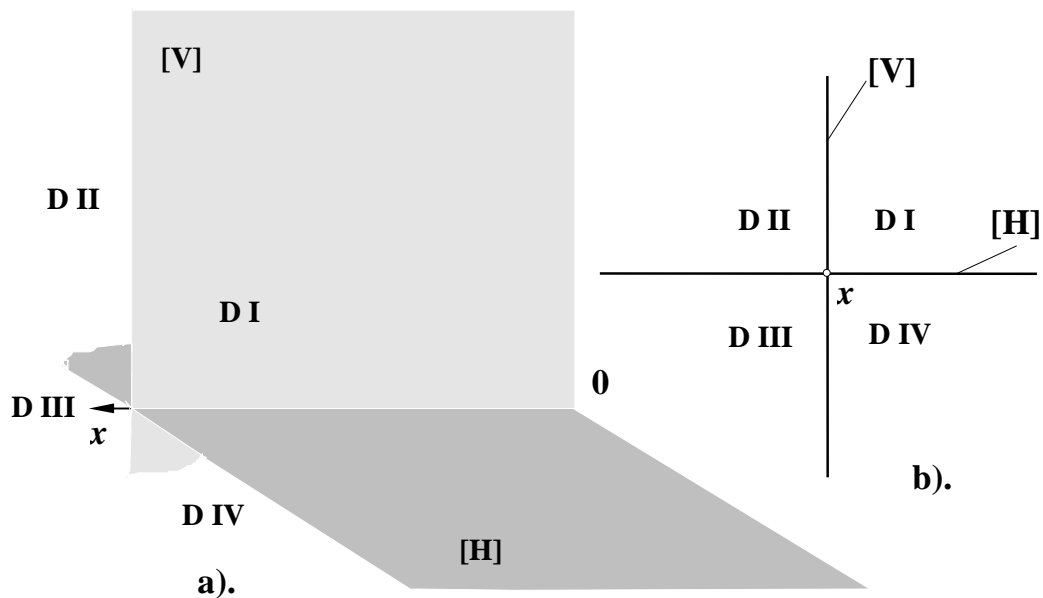


Fig. 2.1

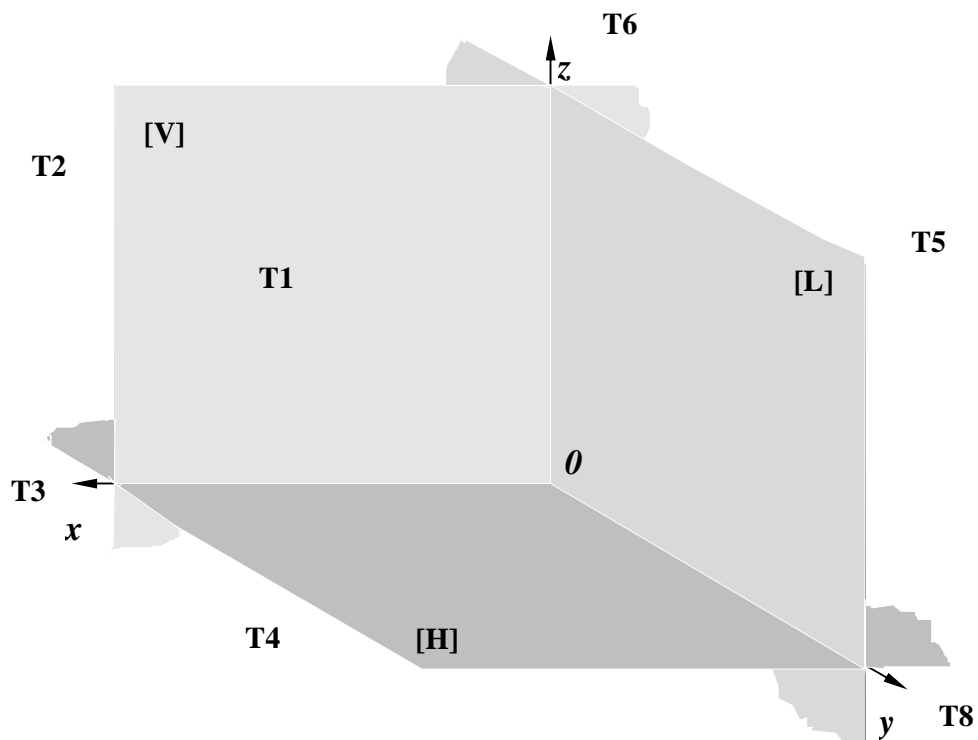


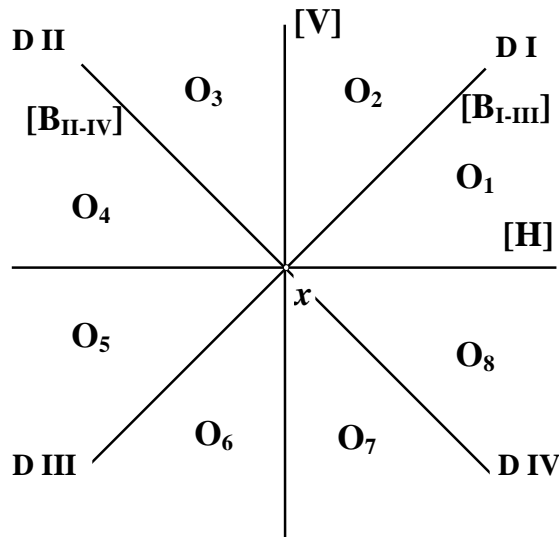
Fig. 2.2

franceză, în memoria părintelui geometriei descriptive, Gaspard Monge, *planul vertical* - [V] și, în cazul triplei proiecții ortogonale, *planul lateral* - [L]. Două câte două, aceste plane se intersectează după drepte-axe de coordonate, concurente într-un punct numit origine O :

$$\begin{aligned}
 [\mathbf{H}] \cap [\mathbf{V}] &= \overline{Ox} - \text{axa absciselor (linie de pământ)}; \\
 [\mathbf{H}] \cap [\mathbf{L}] &= \overline{Oy} - \text{axa depărtărilor}; \\
 [\mathbf{V}] \cap [\mathbf{L}] &= \overline{Oz} - \text{axa cotelor}; \\
 \overline{Ox} \cap \overline{Oy} \cap \overline{Oz} &= O - \text{origine}.
 \end{aligned}
 \tag{2.1}$$

Se observă că cele trei plane de proiecție împart spațiul în patru unghiuri diedre numerotate în sens trigonometric (fig. 2.1-a și b), respectiv în opt unghiuri triedre (fig. 2.2), fiecărui “diedru” corespunzându-i două “triedre”, prin introducerea planului lateral de proiecție.

O altă împărțire a spațiului se poate face cu ajutorul planelor bisectoare, care trecând prin axa \overline{Ox} , împart unghiurile diedre în câte doi octanți (fig. 2.3).


Fig. 2.3

Cu ajutorul în special și convențional, al primului diedru - fig. 2.1, sau triedru - fig. 2.2, se pot studia modul de reprezentare, proprietățile, pozițiile reciproce, pozițiile particulare și problemele ce se pot pune în legătură cu elementele geometrice clasice: punctul, dreapta, planul și corpurile geometrice din categoria poliedrelor, cilindro-conicelor și sfera, care sunt elementele de bază ale pieselor reale din domeniul tehnic-mecanic.

2.1 PUNCTUL IN GEOMETRIA DESCRIPTIVĂ

Proiecția unui punct pe un plan de proiecție nu conduce la o corespondență biunivocă între punctul din spațiu și imaginea sa, deoarece toate punctele situate pe aceeași perpendiculară față de planul de proiecție vor avea aceeași imagine. O singură proiecție deci, nu poate defini punctul într-un mod unic, clar determinat. Folosirea sistemului de două plane de proiecție (fig. 2.1), este soluția de lucru care răspunde acestui deziderat major. Pentru o imagine mai accesibilă, mai ușor de perceput, se recomandă utilizarea sistemului de trei plane de proiecție, ca în fig. 2.2.

Proiecțiile ortogonale ale unui punct **A** din spațiu, pe cele trei plane de proiecție definite anterior, sunt picioarele perpendicularelor din **A** pe **[H]**, **[V]** și respectiv **[L]**, notate **a** - *proiecție orizontală*, **a'** - *proiecție verticală* și **a''** - *proiecție laterală* (fig. 2.4).

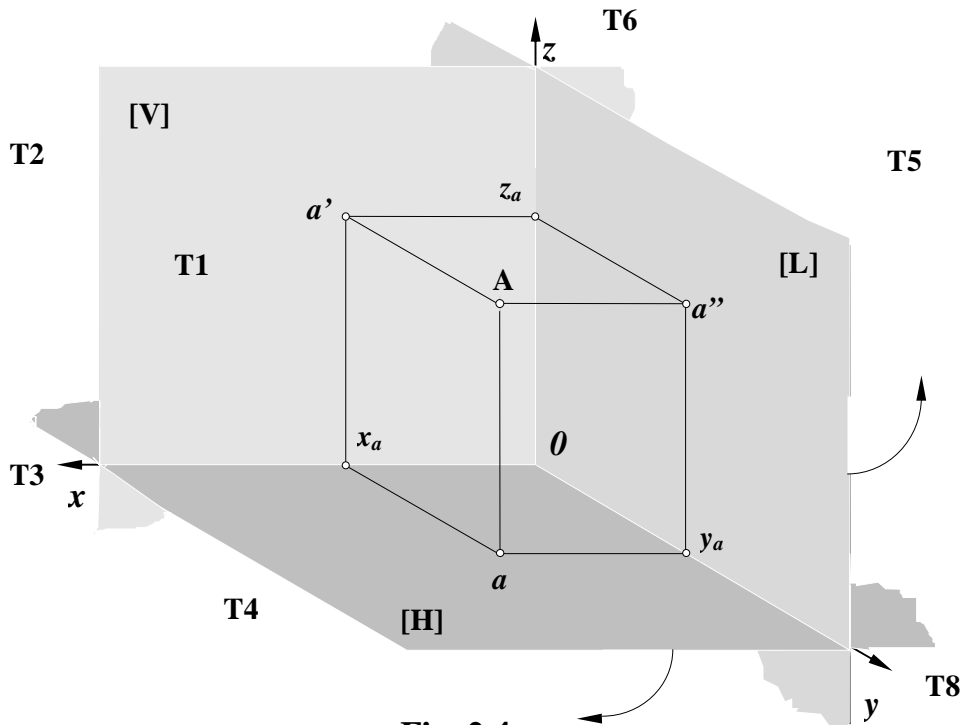


Fig. 2.4

Se numesc *coordonate descriptive* ale punctului **A**, distanțele de la punct la fiecare plan de proiecție și anume:

$$\begin{aligned} \Rightarrow \overline{Aa} &= \overline{z_a O} = z && \text{cot \u0103} \\ \Rightarrow \overline{Aa'} &= \overline{y_a O} = y && \text{dep\u0103rtare} \\ \Rightarrow \overline{Aa''} &= \overline{x_a O} = x && \text{abscis\u0103} \end{aligned}$$

Imaginea spațială din fig. 2.4 este sugestivă, dar nu este utilă din punct de vedere al adevăratelor mărimi ale coordonatelor descriptive. Pentru a rezolva acest neajuns, vom roti planul orizontal și pe cel lateral în jurul axelor \overline{Ox} , respectiv \overline{Oz} , până se suprapun pe planul vertical.

În urma acestei manevre se obține ceea ce se numește **EPURA Monge** a punctului **A** (fig. 2.5).

Se remarcă faptul că axa $\overline{Oy} = [\mathbf{H}] \cap [\mathbf{L}]$, aparține ambelor plane și deci, pleacă o dată cu planul orizontal, sub numele \overline{Oy} și o dată cu planul lateral, sub numele $\overline{Oy_I}$, trecerea de la una la cealaltă făcându-se printr-o rotație de 90° , în sens trigonometric. Depărtarea y , trebuie marcată în ambele plane de proiecție. Proiecțiile a , a' și a'' , se găsesc într-o corespondență dublă, care este impusă de definiția fiecăreia dintre ele, prin intermediul coordonatelor:

a - este definită de perechea de coordonate (x, y) ;

a' - este definită de perechea de coordonate (x, z) ;

a'' - este definită de perechea de coordonate (y_I, z) ;

Grafic, această corespondență este marcată cu ajutorul *liniilor de ordine*, perpendiculare pe axe, care leagă două-câte-două, cele trei proiecții.

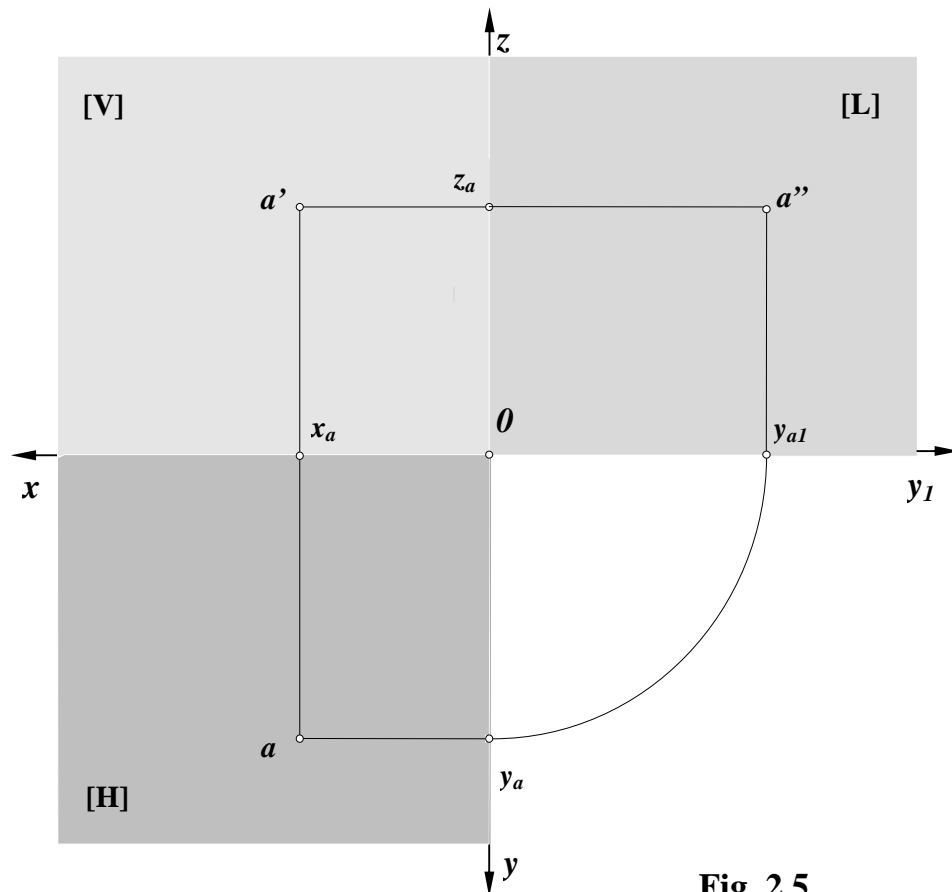


Fig. 2.5

Coordonatele descriptive ale punctelor variază atât ca valoare cât și ca semn, funcție de poziția în spațiu (în raport de sistemul triortogonal de proiecție), a fiecărui punct. Cele trei plane de proiecție împart spațiul în opt zone (fig. 2.2), care de la numele unghiului a trei plane (în cazul acesta perpendiculare între ele), se numesc *triedre* (**T1, T2,...,T8**). Ținând cont de sensurile celor trei axe $\overline{0x}$, $\overline{0y}$, $\overline{0z}$, semnele coordonatelor descriptive ale unor puncte situate în cele opt triedre, vor fi conform tab. 2.1:

Tabelul 2.1

	T1	T2	T3	T4	T5	T6	T7	T8
x	+	+	+	+	-	-	-	-
y	+	-	-	+	+	-	-	+
z	+	+	-	-	+	+	-	-

Punctul **A** reprezentat în fig. 2.4 și 2.5, se găsește în triedrul **T1**, deci are toate coordonatele pozitive.

2.1.1 Poziții particulare ale punctului. Funcție de poziția față de planele de proiecție și deci de valoarea coordonatelor descriptive, punctele pot ocupa următoarele poziții particulare (fig. 2.6):

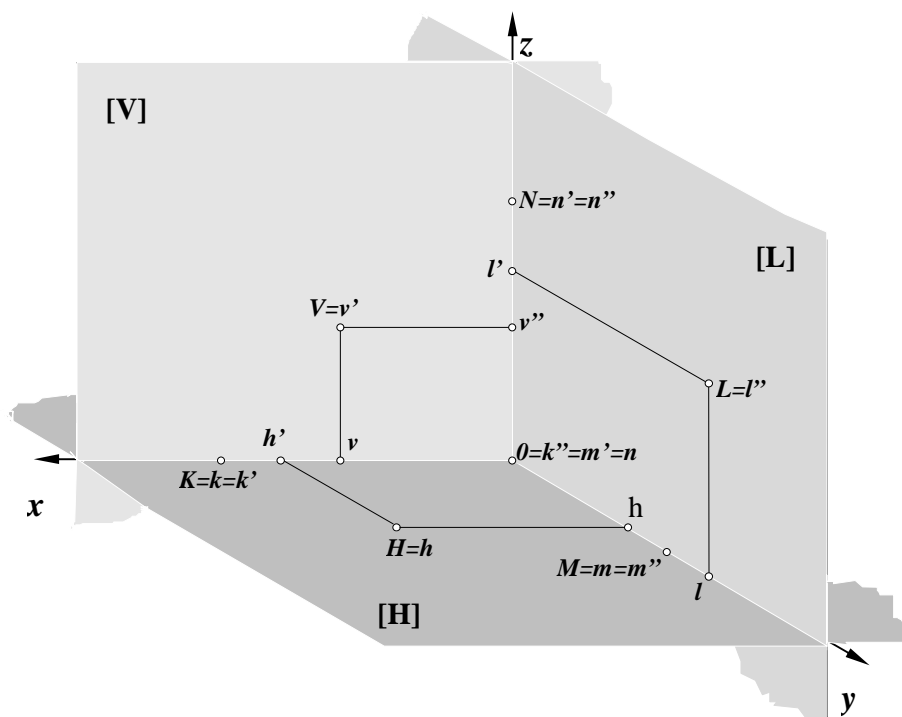


Fig. 2.5

- punct aparținând planului orizontal de proiecție:

$$H \in [H] \Leftrightarrow z = 0; \quad (2.2)$$

- punct aparținând planului vertical de proiecție:

$$V \in [V] \Leftrightarrow y = 0; \quad (2.3)$$

- punct aparținând planului lateral de proiecție:

$$L \in [L] \Leftrightarrow x = 0; \quad (2.4)$$

- punct aparținând axei $\overline{0x}$:

$$K \in \overline{0x} \Leftrightarrow K \in [H] \cap [V] \Leftrightarrow \begin{cases} z = 0 \\ y = 0 \end{cases} \quad (2.5)$$

- punct aparținând axei $\overline{0y}$:

$$M \in \overline{0y} \Leftrightarrow M \in [H] \cap [L] \Leftrightarrow \begin{cases} z = 0 \\ x = 0 \end{cases} \quad (2.6)$$

- punct aparținând axei $\overline{0z}$:

$$N \in \overline{0z} \Leftrightarrow N \in [V] \cap [L] \Leftrightarrow \begin{cases} y = 0 \\ x = 0 \end{cases} \quad (2.7)$$

- punct aparținând originii :

$$0 = [H] \cap [V] \cap [L] \Leftrightarrow \begin{cases} z = 0 \\ y = 0 \\ x = 0 \end{cases} \quad (2.8)$$

Tot din categoria punctelor în poziții particulare fac parte punctele aparținând planelor bisectoare $[B_{I-III}]$ și $[B_{II-IV}]$ (fig.2.7):

- punct aparținând planului bisector $[B_{I-III}]$:

$$I_i \in [B_{I-III}] \Leftrightarrow y_i = z_i \quad (2.9)$$

- punct aparținând planului bisector $[B_{II-IV}]$:

$$J_i \in [B_{I-III}] \Leftrightarrow y_i = -z_i \quad (2.10)$$

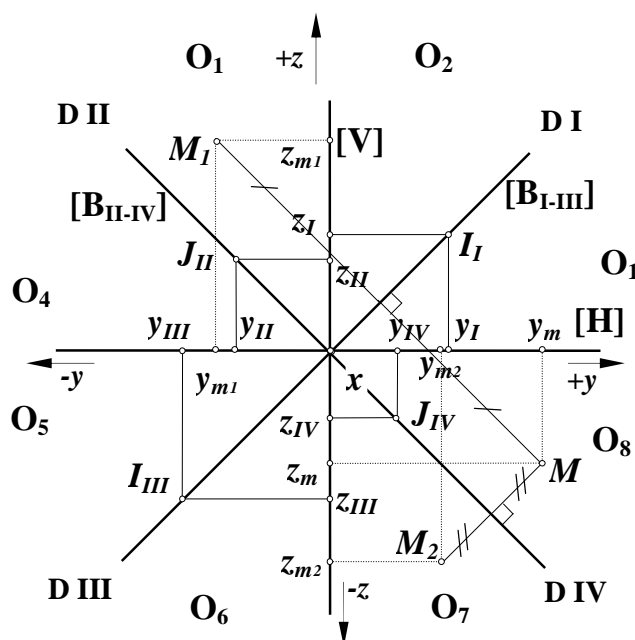


Fig. 2.7

Altfel spus, punctul care aparține planului bisector $[B_{I-III}]$, are proiecția orizontală și cea verticală, simetrice față de axa \overline{Ox} , iar punctul care aparține planului bisector $[B_{II-IV}]$, are proiecția orizontală și cea verticală, confundate. Ținând cont de aceste proprietăți, un astfel de punct se poate recunoaște foarte ușor în epură.

2.1.2 Simetrii. Se pot defini simetrii față de planele de proiecție, față de axele de coordonate, sau față de origine. De fiecare dată se va schimba semnul coordonatei (respectiv coordonatelor) care măsoară distanța de la punctul inițial la planul de proiecție (respectiv planele de proiecție) față de care se definește simetria:

$$\bullet A_I \text{ simetricul lui } A \text{ față de } [H]: \Rightarrow z_{a_1} = -z_a; \quad (2.11)$$

$$\bullet B_I \text{ simetricul lui } B \text{ față de } [V]: \Rightarrow y_{b_1} = -y_b; \quad (2.12)$$

$$\bullet C_I \text{ simetricul lui } C \text{ față de } [L]: \Rightarrow x_{c_1} = -x_c; \quad (2.13)$$

$$\bullet D_I \text{ simetricul lui } D \text{ față de } \overline{Ox}: \Rightarrow \begin{cases} z_{d_1} = -z_d; \\ y_{d_1} = -y_d; \end{cases} \quad (2.14)$$

$$\bullet E_I \text{ simetricul lui } E \text{ față de } \overline{Oy}: \Rightarrow \begin{cases} z_{e_1} = -z_e; \\ x_{e_1} = -x_e; \end{cases} \quad (2.15)$$

$$\bullet F_I \text{ simetricul lui } F \text{ față de } \overline{Oz}: \Rightarrow \begin{cases} y_{f_1} = -y_f; \\ x_{f_1} = -x_f; \end{cases} \quad (2.16)$$

$$\bullet G_I \text{ simetricul lui } G \text{ față de } O: \Rightarrow \begin{cases} z_{g_1} = -z_g; \\ y_{g_1} = -y_g; \\ x_{g_1} = -x_g; \end{cases} \quad (2.17)$$

Adeseori se face referire la simetria față de planele bisectoare. Un punct M , are un simetric M_I față de $[B_{I-III}]$ și un simetric M_2 față de $[B_{II-IV}]$, conform fig. 2.7. Se constată că:

$$\bullet M_I \text{ simetricul lui } M \text{ față de } [B_{I-III}]: \Rightarrow \begin{cases} y_{m_1} = z_m \\ z_{m_1} = y_m \end{cases} \quad (2.18)$$

$$\bullet M_2 \text{ simetricul lui } M \text{ față de } [B_{II-IV}]: \Rightarrow \begin{cases} y_{m_2} = (-)z_m \\ z_{m_2} = (-)y_m \end{cases} \quad (2.19)$$

2.2 APLICAȚII

Exemplu rezolvat:

Fie punctul $A_1(20; -40; 30)$. Să se reprezinte epura punctului A_1 împreună cu A_2 , simetricul său față de origine și să se specifice triedrele cărora le aparțin.

Soluție: coordonatele punctului A_2 se obțin prin schimbarea semnului tuturor coordonatelor punctului $A_1 \Rightarrow A_2(-20; 40; -30)$. $A_1 \in T_2$, iar $A_2 \in T_8$.

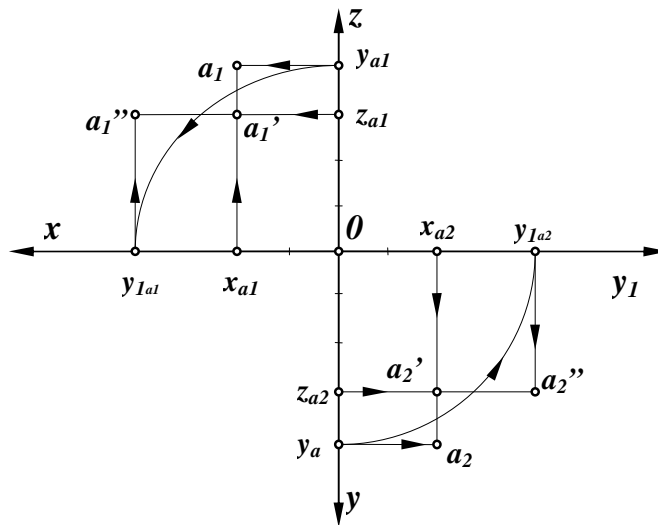


Fig. 2.8

1. Se dă punctul $A(40; 30; 50)$. Să se modifice abscisa, depărtarea și cota punctului A , astfel încât, el să aparțină pe rând celor opt triedre. Să se reprezinte punctele obținute în aceeași epură.

2. Să se reprezinte în epură punctele: $A(10; 50; 30)$, $B(30; 40; -15)$, $C(20; -30; -20)$, $D(40; -20; 20)$, $E(-30; 10; 40)$, $F(-20; 30; -50)$, $G(-40; -20; -40)$, $J(-50; -40; 40)$. Să se specifice cărui triedru aparține fiecare punct.

3. Să se reprezinte în epură punctele: $\mathbf{H}(40; 20; 0)$, $\mathbf{V}(20; 0; -30)$, $\mathbf{L}(0; 15; 20)$, $\mathbf{K}(20; 0; 0)$, $\mathbf{M}(0; 40; 0)$, $\mathbf{N}(0; 0; 30)$, $\mathbf{T}(0; 0; 0)$. Să se specifice cui aparține fiecare punct (plan, axă, origine).

4. Fie punctul $\mathbf{A}(50; 20; -30)$. Să se reprezinte în epură punctul \mathbf{A} împreună cu punctele:

- \mathbf{B} - simetricul lui \mathbf{A} față de planul orizontal $[\mathbf{H}]$;
- \mathbf{C} - simetricul lui \mathbf{A} față de planul vertical $[\mathbf{V}]$;
- \mathbf{D} - simetricul lui \mathbf{A} față de planul lateral $[\mathbf{L}]$;
- \mathbf{E} - simetricul lui \mathbf{A} față de axa $\overline{\theta x}$;
- \mathbf{F} - simetricul lui \mathbf{A} față de axa $\overline{\theta y}$;
- \mathbf{G} - simetricul lui \mathbf{A} față de axa $\overline{\theta z}$.

5. Se dă punctul $\mathbf{M}(50; 35; 40)$. Se cer proiecțiile lui \mathbf{M} , împreună cu proiecțiile punctelor:

- \mathbf{M}_1 - simetricul lui \mathbf{M} față de axa $\overline{\theta x}$;
- \mathbf{M}_2 - simetricul lui \mathbf{M}_1 față de planul $[\mathbf{L}]$;
- \mathbf{M}_3 - simetricul lui \mathbf{M}_2 față de planul $[\mathbf{H}]$;
- \mathbf{M}_4 - simetricul lui \mathbf{M}_3 față de axa $\overline{\theta y}$;
- \mathbf{M}_5 - simetricul lui \mathbf{M}_4 față de planul $[\mathbf{V}]$;
- \mathbf{M}_6 - simetricul lui \mathbf{M}_5 față de axa $\overline{\theta z}$.

6. Se dă cubul $\{\mathbf{VALNKHMO}\}$, având latura de 40mm, cu trei fețe în planele de proiecție și un vârf în origine. Să se reprezinte în epură proiecțiile vârfurilor cubului.

7. Se dă punctul $\mathbf{M}(40, 30, -50)$. Să se reprezinte în epură punctul \mathbf{M} împreună cu simetricele sale \mathbf{M}_1 și \mathbf{M}_2 față de planele bisectoare.

8. Se dă punctul $\mathbf{A}(50, -30, 20)$. Să se reprezinte în epură punctul \mathbf{A} împreună cu punctele:

- \mathbf{B} - simetricul lui \mathbf{A} față de planul bisector $[\mathbf{B}_{I-III}]$;
- \mathbf{C} - simetricul lui \mathbf{A} față de planul bisector $[\mathbf{B}_{II-IV}]$;
- \mathbf{D} - simetricul lui \mathbf{A} față de planul orizontal $[\mathbf{H}]$;
- \mathbf{E} - simetricul lui \mathbf{A} față de planul vertical $[\mathbf{V}]$;
- \mathbf{F} - simetricul lui \mathbf{A} față de planul lateral $[\mathbf{L}]$;
- \mathbf{G} - simetricul lui \mathbf{A} față de origine.

9. Se dau punctele $I(50, 35, z)$ și $J(40, y, 15)$. Să se determine coordonatele care lipsesc și să se reprezinte proiecțiile acestor puncte, dacă ele aparțin planelor bisectoare $[B_{I-III}]$, respectiv $[B_{II-IV}]$. Să se precizeze diedrele și octanții din care aceste puncte fac parte.